


4. Sınıf Modellerle Kesirler

1) Aşağıdaki şeklin gösterdiği kesir hangisidir?



- 2/6
 3/6
 1/6

2) Aşağıdaki şeklin gösterdiği kesir hangisidir?



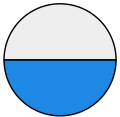
- 1/2
 2/2
 1/2

3) Aşağıdaki şeklin gösterdiği kesir hangisidir?



- 1/7
 6/7
 5/7

4) Aşağıdaki şeklin gösterdiği kesir hangisidir?



- 1/2
 2/2
 1/2

5) Aşağıdaki şeklin gösterdiği kesir hangisidir?



- 2/5
 3/5
 1/5

6) Aşağıdaki şeklin gösterdiği kesir hangisidir?



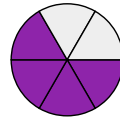
- 3/5
 2/5
 1/5

7) Aşağıdaki şeklin gösterdiği kesir hangisidir?




- 1/7
 2/7
 1/7

8) Aşağıdaki şeklin gösterdiği kesir hangisidir?



- 5/6
 4/6
 1/6

9) Aşağıdaki şeklin gösterdiği kesir hangisidir?



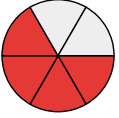
- 3/7
- 4/7
- 1/7

10) Aşağıdaki şeklin gösterdiği kesir hangisidir?



- 1/7
- 6/7
- 5/7

11) Aşağıdaki şeklin gösterdiği kesir hangisidir?



- 1/6
- 4/6
- 5/6

12) Aşağıdaki şeklin gösterdiği kesir hangisidir?



- 6/6
- 5/6
- 1/6

13) Aşağıdaki şeklin gösterdiği kesir hangisidir?



- 1/2
- 1/2
- 2/2

14) Aşağıdaki şeklin gösterdiği kesir hangisidir?



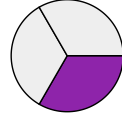
- 1/7
- 5/7
- 4/7

15) Aşağıdaki şeklin gösterdiği kesir hangisidir?



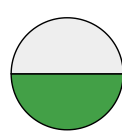
- 1/3
- 2/3
- 1/3

16) Aşağıdaki şeklin gösterdiği kesir hangisidir?



- 1/3
- 1/3
- 2/3

17) Aşağıdaki şeklin gösterdiği kesir hangisidir?



- 2/2
- 1/2
- 1/2

18) Aşağıdaki şeklin gösterdiği kesir hangisidir?



- 1/5
 3/5
 2/5

19) Aşağıdaki şeklin gösterdiği kesir hangisidir?



- 2/5
 3/5
 1/5

20) Aşağıdaki şeklin gösterdiği kesir hangisidir?



- 4/5
 1/5
 3/5

CEVAP ANAHTARI

1. $\frac{2}{6}$

2. $\frac{1}{2}$

3. $\frac{5}{7}$

4. $\frac{1}{2}$

5. $\frac{2}{5}$

6. $\frac{2}{5}$

7. $\frac{1}{7}$

8. $\frac{4}{6}$

9. $\frac{3}{7}$

0. $\frac{5}{7}$

1. $\frac{4}{6}$

2. $\frac{5}{6}$

3. $\frac{1}{2}$

4. $\frac{4}{7}$

5. $\frac{1}{3}$

6. $\frac{1}{3}$

7. $\frac{1}{2}$

8. $\frac{2}{5}$

9. $\frac{2}{5}$

0. $\frac{3}{5}$