

5. Sınıf Açılar Çalışma Sayfası

1) Geniş açı olan açı aşağıdakilerden hangisi olabilir?

- A) 100° B) 60° C) 180° D) 90°

2) Bir açının ölçüsü 64° ise tümleri kaç derecedir?

- A) 21° B) 36° C) 26° D) 31°

3) Bir açının ölçüsü 36° ise tümleri kaç derecedir?

- A) 64° B) 59° C) 49° D) 54°

4) Bir açının ölçüsü 38° ise tümleri kaç derecedir?

- A) 62° B) 57° C) 47° D) 52°

5) 45° ölçüsündeki açı aşağıdakilerden hangisidir?

- A) Geniş açı B) Dar açı C) Doğru açı D) Dik açı

6) Bir açının ölçüsü 20° ise bütünleri kaç derecedir?

- A) 180° B) 150° C) 160° D) 170°

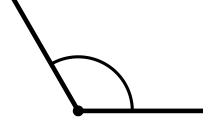
7) Aşağıdaki açı hangi tür açıdır?



- A) Doğru açı B) Geniş açı C) Dar açı D) Dik açı

8) Aşağıdaki seçeneklerden hangisi Dar açı gösterir?

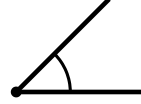
A)



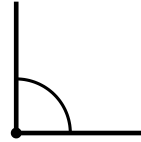
B)



C)



D)



9) Bir açının ölçüsü 59° ise tümleri kaç derecedir?

- A) 31° B) 41° C) 26° D) 36°

10) Dik açı olan açı aşağıdakilerden hangisi olabilir?

- A) 90° B) 180° C) 120° D) 45°

11) 80° ölçüsündeki açı aşağıdakilerden hangisidir?

- A) Dar açı B) Geniş açı C) Dik açı D) Doğru açı

12) Dar açı olan açı aşağıdakilerden hangisi olabilir?

- A) 120° B) 40° C) 180° D) 90°

13) 60° ölçüsündeki açı aşağıdakilerden hangisidir?

- A) Dar açı B) Doğru açı C) Geniş açı D) Dik açı

14) Aşağıdaki seçeneklerden hangisi **Geniş açı** gösterir?

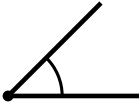
A)



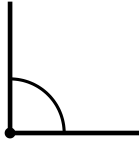
B)



C)



D)

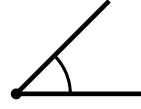


15) Bir açının ölçüsü 152° ise bütünleri kaç derecedir?

- A) 38° B) 18° C) 48° D) 28°

16) Aşağıdaki seçeneklerden hangisi **Dar açı** gösterir?

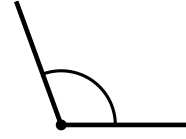
A)



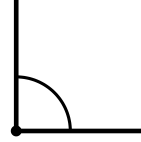
B)



C)

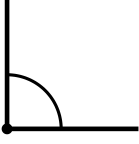


D)



17) Aşağıdaki seçeneklerden hangisi **Geniş açı** gösterir?

A)



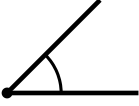
B)



C)



D)

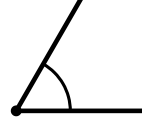


18) **Dar açı** olan açı aşağıdakilerden hangisi olabilir?

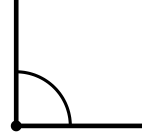
A) 180° B) 120° C) 45° D) 90°

19) Aşağıdaki seçeneklerden hangisi **Dar açı** gösterir?

A)



B)



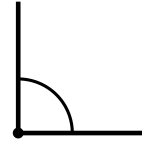
C)



D)



20) Aşağıdaki açı hangi tür açıdır?



A) Dik açı B) Geniş açı C) Doğru açı D) Dar açı